

# ГЕОМЕТРІЯ ДОВКОЛА НАС



Розв'язок  
дитини






Розвиток дитини

# ГЕОМЕТРІЯ

# ДОВКОЛА НАС

● ● ● ● ● ● ● КОЛО ● ● ● ● ● ● ●

Розглянь зразок і намалюй левеня.  
Яка геометрична фігура є основою цього малюнка?



Місце для твого унікального малюнка:




Розвиток дитини

# ГЕОМЕТРІЯ


## ДОВКОЛА НАС

● ● ● ● ● ● ● ОВАЛ ● ● ● ● ● ● ●

Розглянь зразок і намалюй мишеня.  
Яка геометрична фігура є основою цього малюнка?



Місце для твого унікального малюнка:





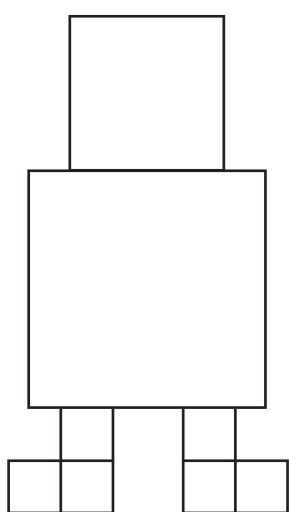


Розвиток дитини

# ГЕОМЕТРІЯ ДОВКОЛА НАС

■ ■ ■ ■ ■ **КВАДРАТ** ■ ■ ■ ■ ■ ■

Розглянь зразок і намалюй робота.  
Яка геометрична фігура є основою цього малюнка?



Місце для твого унікального малюнка:

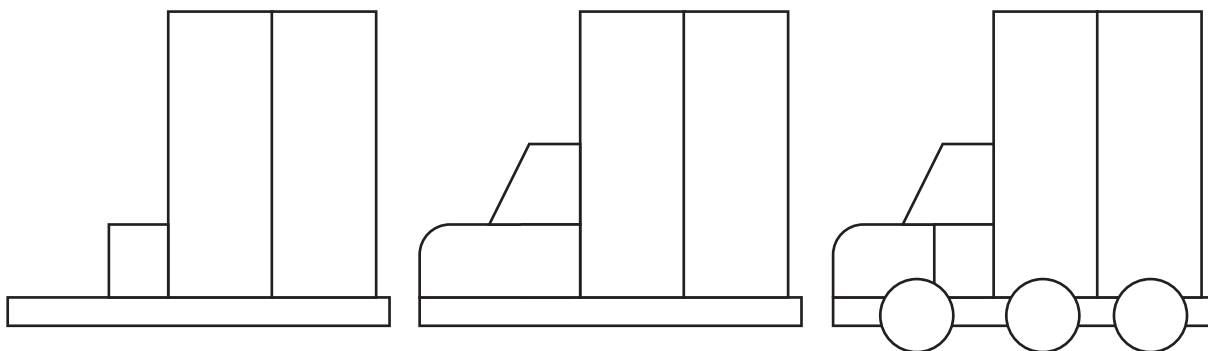


Розвиток дитини


# ГЕОМЕТРІЯ ДОВКОЛА НАС

## ■ ■ ■ ■ ■ ПРЯМОКУТНИК ■ ■ ■ ■ ■

Розглянь зразок і намалюй машину.  
Яка геометрична фігура є основою цього малюнка?



Місце для твого унікального малюнка:





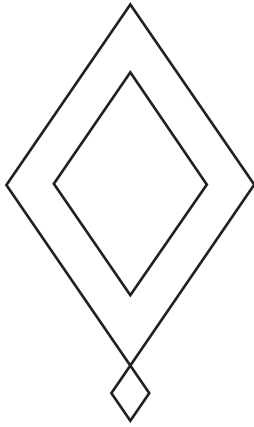


Розвиток дитини


# ГЕОМЕТРІЯ ДОВКОЛА НАС

## ◆◆◆◆◆◆◆◆◆◆ РОМБ ◆◆◆◆◆◆◆◆◆◆

Розглянь зразок і намалюй повітряного змія.  
Яка геометрична фігура є основою цього малюнка?



Місце для твого унікального малюнка:








Розвиток дитини

# ГЕОМЕТРІЯ

# ДОВКОЛА НАС

## ▶▶▶▶▶ ТРИКУТНИК ◀◀◀◀◀◀

Розглянь зразок і намалюй кота.  
Яка геометрична фігура є основою цього малюнка?



Місце для твого унікального малюнка:



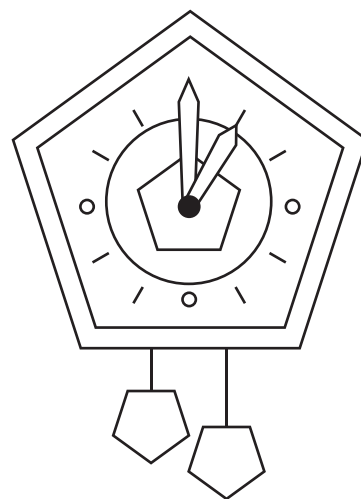
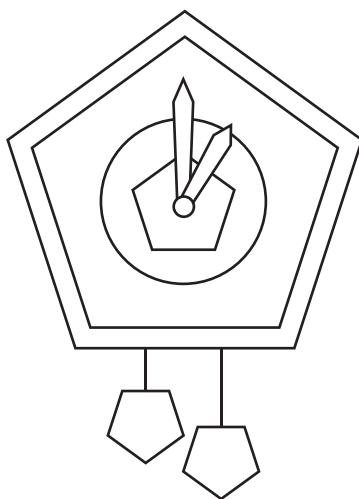
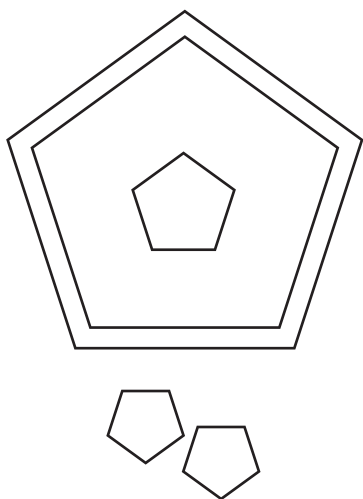
Розвиток дитини

# ГЕОМЕТРІЯ

# ДОВКОЛА НАС

## ◆◆◆◆◆ П'ЯТИКУТНИК ◆◆◆◆◆

Розглянь зразок і намалюй годинник.  
Яка геометрична фігура є основою цього малюнка?



Місце для твого унікального малюнка:






Розвиток дитини

# ГЕОМЕТРІЯ ДОВКОЛА НАС

## ШЕСТИКУТНИК

Розглянь зразок і намалюй ведмедя.  
Яка геометрична фігура є основою цього малюнка?



Місце для твого унікального малюнка:

