



**КАРАНТИН?**

**ЧАСУ НЕ  
ГАЄМО.**

**САМІ ГАРНО  
ВСЕ ВИВЧАЄМО!**

РАЗ, ДВА, ТРИ, ЧОТИРИ, П`ЯТЬ –  
ЦИФРИ БУДЕМО ВСТАВЛЯТЬ!

1		3	4	
6	7			10



СКЛАД ЧИСЛА ПОТРІБНО ЗНАТИ  
І ПОСТІЙНО ПОВТОРЯТИ.



=	3	+	?
---	---	---	---



=	4	+	?
---	---	---	---



=	6	+	?
---	---	---	---

РИБОК ЩОБ ПОГОДУВАТИ,  
ПРИКЛАДИ ТРЕБА РОЗВ`ЯЗАТИ.



Yellow fish:  $6 -$  (4, 5, 2) → ( , , )

Orange fish:  $7 -$  (2, 4, 5) → ( , , )

Purple fish:  $8 -$  (4, 6, 8) → ( , , )

Blue fish:  $10 -$  (8, 9, 4) → ( , , )

ЛАНЦЮЖОК ЦЕЙ ДОВГИЙ ДУЖЕ,  
АЛЕ МИ РОЗВ`ЯЖЕМ, ДРУЖЕ!

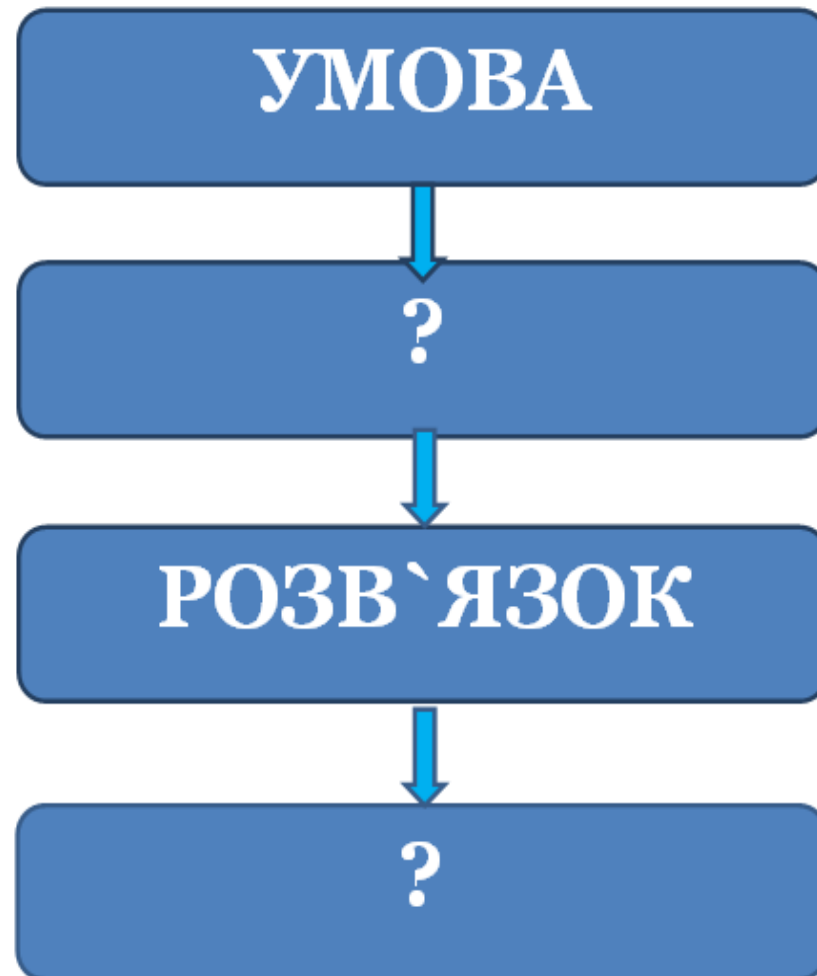


4	+	2	=		-	3	=	
								+
7	+		=	6	-		=	5
=								
	-	8	=		+	4	=	

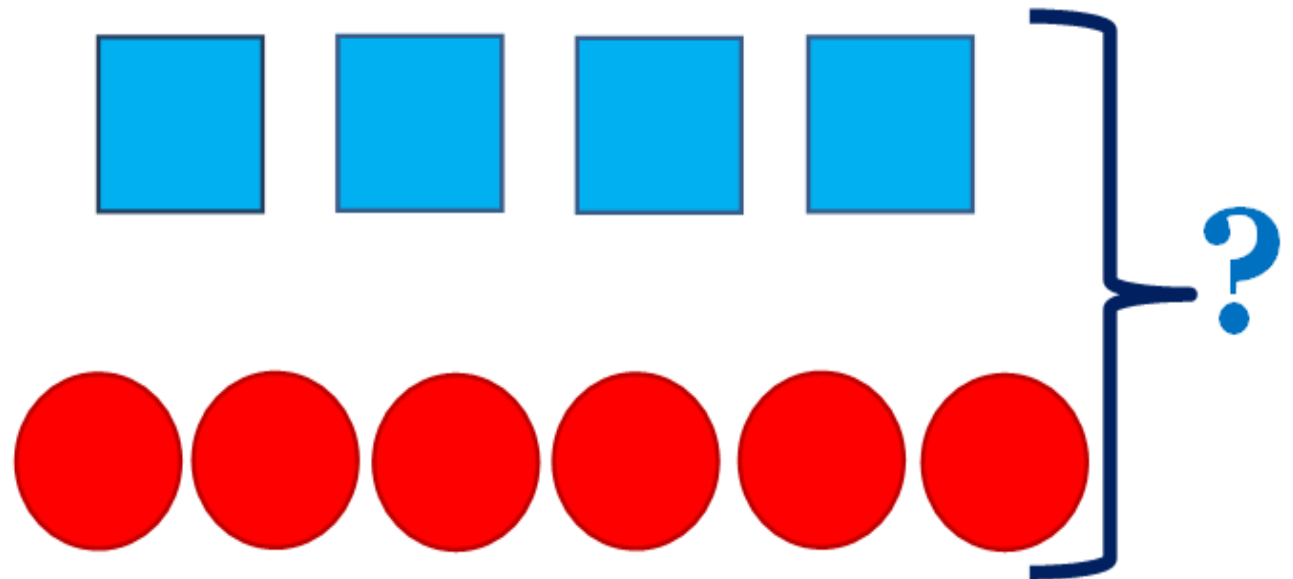

ТРЕБА ЛИШ ПОМІРКУВАТИ,  
ЩОБИ РЕБУС ВІДГАДАТИ.



**ЩОБИ ЗАДАЧУ УСІМ РОЗВ'ЯЗАТИ,  
ТРЕБА БУДОВУ ЇЇ НАМ ЗГАДАТИ.**




**МАША ВИРІЗАЛА 4 КВАДРАТИ І  
ШІСТЬ КРУЖЕЧКІВ. СКІЛЬКИ  
ВСЬОГО ГЕОМЕТРИЧНИХ ФІГУР  
ВОНА ВИРІЗАЛА?**






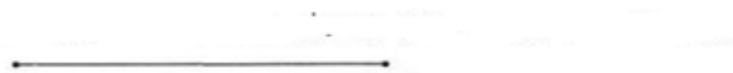
1. ПОВТОРІТЬ УМОВУ ЗАДАЧІ.
2. НАЗВІТЬ ПИТАННЯ.
3. ЗАДОПОМОГОЮ ЯКОЇ ДІЇ БУДЕМО ШУКАТИ РІШЕННЯ.
4. ДАЙТЕ ВІДПОВІДЬ НА ПИТАННЯ ЗАДАЧІ.
5. ЗАПИШІТЬ ЗАДАЧУ.



**ЗА МАЛЮНКОМ СКЛАДІТЬ ЗАДАЧУ.  
ПОСТАВТЕ ДО НЕЇ ЗАПИТАННЯ:  
«НА СКІЛЬКИ БІЛЬШЕ?»**



**НАМ НАКРЕСЛИТИ ВІДРІЗОК  
ДУЖЕ ЛЕГКО Й ПРОСТО.**



**А ТЕПЕР НАКРЕСЛИМ ДРУГИЙ  
НА ТРИ САНТИМЕТРИ ДОВШИЙ.**



**ВСЕ МИ ЛЕГКО ПОДОЛАЛИ,  
ВСІ ЗАВДАННЯ РОЗВ`ЯЗАЛИ.**

**А ТЕПЕР – ВІДПОЧИВАТИ:  
ГРАТИ, МАЛЮВАТЬ Й ЧИТАТИ.**

