

У садку цвіли 12 жоржин. Наступного ранку розквітли 4 червоні жоржини та 6 жовтих. Скільки жоржин стало цвісти в садку?

$$57 \text{ см} = \square \text{ дм } \square \text{ см} \quad 9 \text{ дм} = \square \square \text{ см} \quad 22 \text{ см} = \square \text{ дм } \square \text{ см}$$

$$83 \text{ дм} = \square \text{ м } \square \text{ дм} \quad 5 \text{ м} = \square \square \text{ дм} \quad 8 \text{ м } 4 \text{ дм} = \square \square \text{ дм}$$

Після того як на зупинці до автобуса ввійшли 7 чоловіків та 5 жінок, в автобусі стало їхати 25 пасажирів.

Скільки пасажирів їхали в автобусі до зупинки?

$$47 \text{ см} - 42 \text{ см} + 8 \text{ см} = \square \square \text{ см} \quad 14 \text{ дм} - 6 \text{ дм} + 4 \text{ дм} = \square \square \text{ дм}$$

$$38 + 2 \quad 70 - 4$$

$$60 - 8 \quad 42 + 8$$

$$55 + 5 \quad 30 - 4$$

Зменшуване	12		12	15
Від'ємник	5	7	4	
Різниця		6	8	9

Доданок	2		8	8
Доданок	9	7	9	4
Сума		11	15	16

$$16 - (37 - 32) > 1 \square$$

$$4 \square - (15 + 22) > 10$$

$$\square 4 + \square 5 < 67 - 15$$

$$8 + 9 < 32 - \square \square$$

$$\begin{array}{|c|c|c|c|} \hline 3 & 2 & - & 3 = \\ \hline 5 & 6 & + & 7 = \\ \hline 2 & 4 & - & 8 = \\ \hline \end{array}$$

$$\begin{array}{|c|c|c|c|} \hline 4 & 3 & + & 8 = \\ \hline 6 & 4 & - & 6 = \\ \hline 2 & 7 & + & 4 = \\ \hline \end{array}$$

$$\begin{array}{|c|c|c|c|} \hline 5 & 5 & + & 7 = \\ \hline 4 & 1 & - & 5 = \\ \hline 2 & 6 & + & 7 = \\ \hline \end{array}$$

У миші тричі на рік з'являються мишенята. Навесні народилося 6 мишенят, улітку — 8, а решта — восени.

Скільки мишенят народилося восени, якщо всього за рік у миші з'явилося 24 малюки?

Накресли будь-які кути *АОК*, *МСР*.

Накресли трикутник *DTN*.

$$\begin{array}{|c|c|c|c|} \hline 6 & 2 & - & 7 = \\ \hline 2 & 5 & + & 6 = \\ \hline 4 & 2 & - & 4 = \\ \hline 6 & 3 & + & 9 = \\ \hline \end{array}$$

$$\begin{array}{|c|c|c|c|} \hline 2 & 2 & - & 6 = \\ \hline 3 & 6 & + & 7 = \\ \hline 9 & 1 & - & 3 = \\ \hline 8 & 5 & - & 8 = \\ \hline \end{array}$$

$$\begin{array}{|c|c|c|c|} \hline 7 & 8 & + & 4 = \\ \hline 8 & 0 & - & 6 = \\ \hline 3 & 1 & - & 2 = \\ \hline 1 & 8 & + & 6 = \\ \hline \end{array}$$

У гнізді пташки-малинівки було 12 яєць. Зозуля під клала їй своє яйце, а 2 яйця малинівки викинула. Скільки яєць стало в гнізді малинівки?

Накресли прямокутник зі сторонами 3 і 2 см.

Знайди значення виразу зі змінною: $54 - c$, якщо $c = 8$; $c = 42$.

Обчисли значення виразів по діях.

$$39 - (15 - 7 + 5) + 4$$

$$21 + (67 - 9) - (6 + 8)$$

$70 + 12 =$	$90 - 7 =$	$50 + 26 =$
$20 - 4 =$	$60 + 24 =$	$30 - 2 =$
$50 + 33 =$	$40 - 8 =$	$80 - 8 =$


Біля ставка росло 12 верб. Бобри сточили 5 верб, замість них діти посадили 7 верб. Скільки верб стало?

Накресли будь-яку ламану, що складається з 4 відрізків.

Доданок	6		34	45		9	4	
Доданок		8	6		5	7		32
Сума	12	40		56	11		60	78

Зменшуване	12	45		62	33		50	16
Від'ємник	9		8	5		37	3	
Різниця		6	32		9	7		8

Дівчинка нарахувала у вазі 11 карамельок, а шоколадних цукерок — на 4 більше. Вона поклала до кишені 8 шоколадних цукерок. Скільки шоколадних цукерок залишилось у вазі?



У шкільній їдальні було 12 кг картоплі. На сніданок витратили 5 кг, а на обід — 6 кг картоплі. Скільки кілограмів картоплі залишилося?

На клумбі росли 12 червоних троянд, а жовтих — на 5 менше. Для букету зрізали 3 жовті троянди. Скільки жовтих троянд залишилося на клумбі?


$57 + 6 =$	$73 - 5 =$	$84 + 8 =$
$27 - 9 =$	$35 + 7 =$	$62 - 3 =$
$18 + 5 =$	$54 - 6 =$	$27 + 6 =$
$46 - 8 =$	$17 + 9 =$	$32 - 4 =$

Після того як на зупинці до автобуса ввійшли 7 чоловіків та 5 жінок, в автобусі стало їхати 25 пасажирів.

Скільки пасажирів їхали в автобусі до зупинки?

Дано відрізки: $AB = 8$ см; $MK = 5$ см. Побудуй відрізок ST , довжина якого дорівнює сумі довжин відрізків AB і MK .

Замалюй вирази, значення яких дорівнює 16.



$$16 - (37 - 32) > 1 \square$$

$$\square 4 + \square 5 < 67 - 15$$

$$4 \square - (15 + 22) > 10$$

$$8 + 9 < 32 - \square \square$$

Першого дня хлопчики підклеїли 36 книжок із бібліотеки і 23 підклеїли дівчатка. Другого дня діти підклеїлище 47 книжок. На скільки більше книжок діти підклеїли першого дня, ніж другого?

Накресли відрізок *СМ* завдовжки 1 дм 2 см

$$38 + 2$$

$$70 - 4$$

$$60 - 8$$

$$42 + 8$$

$$55 + 5$$

$$30 - 4$$

$$80 - 7$$

$$31 + 9$$

Знайди значення виразів за схемами.

$$73 + 9 = \square \square + \square = \square \square$$

$$44 - 6 = \square \square - \square = \square \square$$

$$\begin{array}{r} \swarrow \searrow \\ 7+2 \end{array}$$

$$\begin{array}{r} \swarrow \searrow \\ 4+2 \end{array}$$

$65 - 8 =$	$27 + 7 =$	$35 - 6 =$
$37 + 8 =$	$32 - 3 =$	$77 + 4 =$
$82 - 7 =$	$45 + 8 =$	$92 - 4 =$

Бегемотику поклали 12 кг овочів, мамі-бегемотисі — 15 кг, а тату-бегемоту — на 3 кг більше, ніж бегемотику та його мамі разом. Скільки кілограмів овочів поклали тату-бегемоту? Склади та розв'яжи обернену задачу, щоб шуканим у ній було число 3.

Обчисли значення виразів по діях.

$$48 - (6 + 7) - (11 - 3)$$

$$26 + (13 - 8 + 6)$$

$62 - 7 =$	$22 - 6 =$	$78 + 4 =$
$25 + 6 =$	$36 + 7 =$	$80 - 6 =$
$42 - 4 =$	$91 - 3 =$	$31 - 2 =$
$63 + 9 =$	$85 - 8 =$	$18 + 6 =$

Наталочка вирізала 13 сніжинок, а Даринка — на 4 сніжинки менше, ніж Наталочка. Тетянка вирізала сніжинок на 6 більше, ніж Даринка. Скільки сніжинок вирізала Тетянка?

$56 - \dots = 9$	$7 + \dots = 41$	$\dots - 8 = 23$
------------------	------------------	------------------

Пес Мужтар доглядав 36 овець. Із них 24 вівці були білими, а решта — сірими. На скільки менше сірих овець, ніж білих, доглядав пес?

Склади й розв'яжи обернену задачу, щоб шуканим у ній було число 36.

Білому ведмедю в зоопарку щоденно дають 5 кг риби і 4 кг м'яса. 8 кг він уже з'їв.

Скільки кілограмів риби та м'яса залишилося з'їсти ведмедю?

На закладку Олег витратив 7 см стрічки, на прапорці для човника — на 2 см більше, ніж на закладку, а на повітряного змія — на 6 см більше, ніж на прапорці. Скільки сантиметрів стрічки Олег витратив на змія?

Зміни запитання задачі так, щоб вона розв'язувалася трьома арифметичними діями, розв'яжи задачу.

Накресли будь-яку ламану лінію, яка складається з чотирьох відрізків. Спробуй знайти довжину одержаної ламаної.

Матуся заморозила на зиму 26 кг ягід. Із них 7 кг — малини, 9 кг — смородини, решта — полуниці. Скільки кілограмів полуниць заморозила матуся?

Обчисли значення виразів по діях.

$$39 - (15 - 7 + 5) + 4$$

$$21 + (67 - 9) - (6 + 8)$$

➤ 2) Після того як один кріт зотягнув із грядки в нору 14 буряків, а другий кріт — 9, на грядці залишилося ще 7 буряків. Скільки буряків було на грядці спочатку?

$$67 - (27 + 8) + 9 = \quad (67 + 8) - (26 + 5) =$$

$$2 + 16$$

$$21 + 12$$

$$38 - 8 - 2$$

$$68 - 6$$

$$37 + 42$$

$$62 + 7 - 10$$

$$30 + 68$$

$$86 - 54$$

$$73 - 20 - 1$$

$$41 - 11$$

$$79 - 13$$

$$46 + 4 - 3$$

У шкільній їдальні було 12 кг картоплі. На сніданок витратили 5 кг, а на обід — 6 кг картоплі. Скільки кілограмів картоплі залишилося?

Порівняй іменовані числа.

$$7 \text{ дм} \bigcirc 7 \text{ см}$$

$$42 \text{ см} \bigcirc 4 \text{ дм } 3 \text{ см}$$

$$2 \text{ м } 7 \text{ дм} \bigcirc 28 \text{ дм}$$

$$6 \text{ дм} \bigcirc 6 \text{ м}$$

Накресли відрізок CM завдовжки 1 дм 2 см.

$$40 - 1 \quad 79 + 1 \quad 4 + 30 - 1 \quad 60 + 7 - 10$$

$$65 + 2 \quad 50 + 3 \quad 85 - 10 - 5 \quad 60 + 20 - 5$$

На клумбі було декілька квітучих айстр. Після того як наступного ранку розпустилися ще 12 білих і 14 рожевих айстр, на клумбі стало 49 квітучих айстр. Скільки айстр було спочатку на клумбі?

На клумбі було 23 квітучі айстри. Наступного ранку розпустилися ще 12 білих і 14 рожевих айстр. Скільки квітучих айстр стало на клумбі?

Накресли прямокутник $ABCD$ зі сторонами 2 см і 5 см. Обчисли його периметр.

Порівняти і поставити знаки $>$, $<$ або $=$.

$$9 + 21 \square 70$$

$$85 \square 70 + 25$$

$$56 \square 50 + 4$$

$$90 - 10 \square 63$$

$$63 + 7 \square 70$$

$$3 + 33 \square 34$$

У ховрашиної сім'ї в запасах є пшениця, жито та овес — усього 19 кг. Пшениці — 5 кг, жита — 8 кг. Скільки кілограмів овса в запасах ховрахів?

Накресли прямокутник, периметр якого становить 36 см.

$$35 + 4 \quad 49 - 4 \quad 58 - 6 - 30$$

$$48 + 20 \quad 28 - 17 \quad 86 - 5 - 60$$

$$53 - 10 \quad 56 + 40 \quad 18 - 5 - 3$$

$$76 - 42 \quad 92 + 8 \quad 38 - 5 - 20$$

На крижаному полі Арктики відпочивали 8 моржів, а морських котиків — на 3 більше, ніж моржів, а ще — 3 тюлені. Скільки тварин відпочивало на крижаному полі?

Маса щуки 12 кг, а маса сома — на 25 кг більша. Яка маса сома?

Перетворити.

$$7 \text{ дм } 1 \text{ см} = \underline{\quad} \text{ см}$$

$$1 \text{ грн} = \underline{\quad} \text{ к.}$$

$$13 \text{ см} = \underline{\quad} \text{ дм } \underline{\quad} \text{ см}$$

$$86 \text{ мм} = \underline{\quad} \text{ см } \underline{\quad} \text{ мм}$$

$$5 \text{ м } 7 \text{ дм} = \underline{\quad} \text{ дм}$$

$$100 \text{ мм} = \underline{\quad} \text{ см}$$

У похід вирушили 24 туристи. Серед них було 8 хлопчиків, 7 дівчаток, решта — дорослі. Скільки дітей брали участь у поході? Скільки дорослих брали участь у поході? На скільки більше дітей, ніж дорослих, брали участь у поході?

У їдальні було 54 кг картоплі. На приготування обіду витратили 5 кг картоплі, а потім ще 4 кг. Скільки кг картоплі залишилося в їдальні?

$$\begin{array}{l} 56 + 7 \\ 32 - 5 + 7 \\ (60 - 2) + 7 \\ 43 - 9 \end{array} \qquad \begin{array}{l} 91 - 3 \\ (36 + 4) - 5 \\ 32 - (5 + 7) \end{array}$$

У баку було 56 л води. На поливання квітів взяли 3л води, а потім ще 5л. Скільки літрів води залишилось в баку?

Побудуй два квадрати: 1-й – зі стороною 4 см, а 2-й – зі стороною, на 1 см коротшою.

У перший тиждень майстер виготовив 35 деталей, у другий тиждень – на 5 деталей більше, ніж у перший, а в третій тиждень – на 10 деталей менше, ніж у другий тиждень. Скільки деталей виготовив майстер у третій тиждень?

Порівняти і поставити знаки $>$, $<$ або $=$.

$$90 \square 20 + 45 \qquad 70 \square 15 + 34$$

$$100 - 30 \square 60 \qquad 2 + 42 \square 44$$


$$20 + 75 \square 100 \qquad 80 \square 45 + 12$$

$70 + 12 =$	$90 - 7 =$	$50 + 26 =$
$20 - 4 =$	$60 + 24 =$	$30 - 2 =$
$50 + 33 =$	$40 - 8 =$	$80 - 8 =$

Із яких посудин треба вилити воду, щоб заповнити бак місткістю 14 л?



$84 - 8 =$	$56 + 7 =$	$84 - 7 =$
$35 + 8 =$	$83 - 7 =$	$67 + 4 =$
$62 - 5 =$	$46 + 6 =$	$45 - 8 =$
$88 + 4 =$	$32 - 3 =$	$32 + 9 =$



Розфарбуй квадрати.